

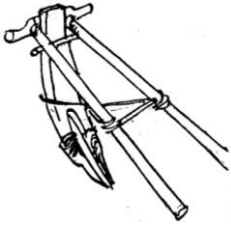


Darba lapa Latvijas Nacionālā vēstures muzeja ekspozīcijā

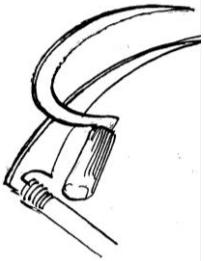
„Zemnieku tradicionālais dzīvesveids 19. gs.”



1. Aplūko ekspozīcijā Jāņa Krēsliņa zīmējumu! No kādiem materiāliem tika būvētas latviešu zemnieku dzīvojamās un saimniecības ēkas 19. gadsimtā?



2. Kā sauc šo priekšmetu? Kādam darbam tas tika izmantots?



3. Kā sauc šos divus priekšmetus? Kādiem darbiem tie tika izmantoti?

1) _____

2) _____



4. Aplūko zīmējumu! Kādi 3 zemnieku darbi ir redzami tajā, kādā gadalaikā tie tika veikti?

1) _____

2) _____

3) _____

5. Atrodi ekspozīcijā 3 priekšmetus, kas redzami zīmējumā? Pieraksti to nosaukumus un kam tos izmantoja!

1) _____

2) _____

3) _____



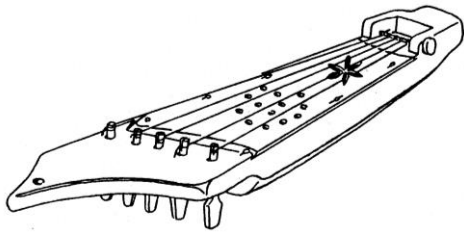
6. Kādus koka traukus, kas saistāmi ar pienu un piena produktu pārstrādi, var aplūkot 9. vitrīnā? Nosvītro nepareizos!

CIBA; SVIESTA FORMA; MUCIŅA; SĀLSTRAUKS; SLAUCENE; ALUS KAUSIS; KĒRNE; TRAUKS – DRUVNESIS; SVIESTA KUĻAMAS



7. Aplūko ekspozīcijā 19. gadsimta zemnieku dzīvojamās istabas atdarinājumu! Kādi priekšmeti ir redzami istabā? Nosvīturo nepareizos:

AIZKARI; SKAPIS; GULTA; ELEKTRISKĀ LAMPA; SPOGULIS; STELLES; SKALTURIS; RADIATORI; ŠŪPULIS; KRĒSLS; GRĪDAS SEGA; VĒRPJAMĀIS RATIŅŠ; PORCELĀNA TRAUKI; GALDS; SOLS; MAIZES KRĀSNS; GĀZES PLĪTS.



8. Kā sauc šo mūzikas instrumentu?



9. Kura no attēlā redzamajām sievietēm nav precēta? Apvelc pareizo skaitli! Kas par to liecina?

10. Pabeidz teikumu, izmantojot dotos vārdus!

KĀZAS; CIMDI; RIJA; ĶĒRNE; TAUTAS TĒRPS; SAKTA; ABRA; SPRIGULIS

Zemnieku goda apģērbs _____

Trauks maizes mīklas mīcīšanai _____

Darba rīks labības kulšanai _____

Tradicionāla dāvana godos _____

Krāšņākie ģimenes godi _____

Saimniecības ēka, graudu žāvētava, tur kūla labību _____

Koka trauks ar vāku, parasti piena produktu, uzglabāšanai _____

Rota tērpa saspraušana _____